

제 2 교시

수학 영역

홀수형

5지선다형

1. $\sqrt[3]{5} \times 25^{\frac{1}{3}}$ 의 값은? [2점]

- ① 1 ② 2 ③ 3 ④ 4 ⑤ 5

$= 5^{\frac{1}{3}} \times 5^{\frac{2}{3}} = 5.$

2. 함수 $f(x) = x^3 - 8x + 7$ 에 대하여 $\lim_{h \rightarrow 0} \frac{f(2+h) - f(2)}{h}$ 의 값은? [2점]

- ① 1 ② 2 ③ 3 ④ 4 ⑤ 5

$f'(x) = 3x^2 - 8$

$f'(2) = 4.$

3. 첫째항과 공비가 모두 양수 k 인 등비수열 $\{a_n\}$ 이

$\frac{a_4}{a_2} + \frac{a_2}{a_1} = 30$

$a_n = k^n.$

을 만족시킬 때, k 의 값은? [3점]

- ① 1 ② 2 ③ 3 ④ 4 ⑤ 5

$k^2 + k = 30 \quad \therefore k = 5.$

4. 함수

$f(x) = \begin{cases} 5x + a & (x < -2) \\ x^2 - a & (x \geq -2) \end{cases}$

가 실수 전체의 집합에서 연속일 때, 상수 a 의 값은? [3점]

- ① 6 ② 7 ③ 8 ④ 9 ⑤ 10

$f(-2) = a - 10 = 4 - a.$

$\therefore a = 7.$

5. 함수 $f(x) = (x^2 + 1)(3x^2 - x)$ 에 대하여 $f'(1)$ 의 값은? [3점]

- ① 8 ② 10 ③ 12 ④ 14 ⑤ 16

$$f(x) = 2x(3x^2 - x) + (x^2 + 1)(6x - 1)$$

$$f'(x) = 4 + 6x$$

$$= 14.$$

7. 다항함수 $f(x)$ 가 모든 실수 x 에 대하여

$$\int_0^x f(t) dt = 3x^3 + 2x$$

를 만족시킬 때, $f(1)$ 의 값은? [3점]

- ① 7 ② 9 ③ 11 ④ 13 ⑤ 15

$$f(x) = 9x^2 + 2$$

$$f(1) = 11$$

6. $\cos\left(\frac{\pi}{2} + \theta\right) = -\frac{1}{5}$ 일 때, $\frac{\sin\theta}{1 - \cos^2\theta}$ 의 값은? [3점]

- ① -5 ② $-\sqrt{5}$ ③ 0 ④ $\sqrt{5}$ ⑤ 5

$$\sin\theta = \frac{1}{5}$$

$$\frac{1}{\sin\theta} = 5.$$

8. 두 실수 $a = 2\log \frac{1}{\sqrt{10}} + \log_2 20$, $b = \log 2$ 에 대하여 $a \times b$ 의 값은? [3점]

- ① 1 ② 2 ③ 3 ④ 4 ⑤ 5

$$\begin{aligned}
 a &= -\log 10 + \log_2 20 \\
 &= \log_2 10 \\
 a \times b &= 1.
 \end{aligned}$$

9. 함수 $f(x) = 3x^2 - 16x - 20$ 에 대하여

$$\int_{-2}^a f(x) dx = \int_{-2}^0 f(x) dx$$

일 때, 양수 a 의 값은? [4점]


- ① 16 ② 14 ③ 12 ④ 10 ⑤ 8

$$\begin{aligned}
 \int_0^a f(x) dx &= a^3 - 8a^2 - 20a = 0 \\
 \therefore a &= 10 \quad (\because a > 0).
 \end{aligned}$$

10. 닫힌구간 $[0, 2\pi]$ 에서 정의된 함수 $f(x) = a \cos bx + 3$ 이

$x = \frac{\pi}{3}$ 에서 최댓값 13을 갖도록 하는 두 자연수 a, b 의 순서쌍 (a, b) 에 대하여 $a+b$ 의 최솟값은? [4점]

- ① 12 ② 14 ③ 16 ④ 18 ⑤ 20

$$\begin{aligned}
 a &= 10 \\
 b &= 6
 \end{aligned}$$


11. 시각 $t=0$ 일 때 출발하여 수직선 위를 움직이는 점 P의 시각 $t(t \geq 0)$ 에서의 위치 x 가

$$x = t^3 - \frac{3}{2}t^2 - 6t$$

이다. 출발한 후 점 P의 운동 방향이 바뀌는 시각에서의 점 P의 가속도는? [4점]

- ① 6 9 ③ 12 ④ 15 ⑤ 18

$$v = 3t^2 - 3t - 6 \quad t = 2 \quad (\because t > 0)$$

$$a = 6t - 3$$

$$a|_{t=2} = 9$$

12. $a_1 = 2$ 인 수열 $\{a_n\}$ 과 $b_1 = 2$ 인 등차수열 $\{b_n\}$ 이 모든 자연수 n 에 대하여

$$\sum_{k=1}^n \frac{a_k}{b_{k+1}} = \frac{1}{2}n^2$$

을 만족시킬 때, $\sum_{k=1}^5 a_k$ 의 값은? [4점]

- 120 ② 125 ③ 130 ④ 135 ⑤ 140

$$\frac{a_n}{b_{n+1}} = n - \frac{1}{2}$$

$$\frac{a_1}{b_2} = \frac{1}{2} \quad \therefore b_2 = 4 \quad b_n = 2n$$

$$\begin{aligned} a_n &= (2n+2)(n-\frac{1}{2}) \\ &= (2n+1)(2n-1) \\ &= 2n^2 + n - 1 \end{aligned}$$

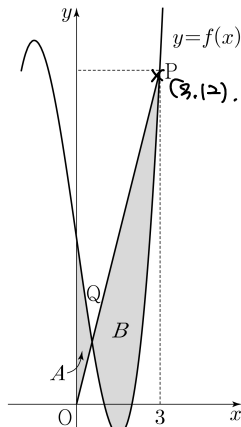
$$\begin{aligned} \sum_{n=1}^5 a_n &= 2 \cdot \frac{5 \cdot 6 \cdot 11}{6} + \frac{5 \cdot 6^3}{2} - 5 \\ &= 110 + 15 - 5 \end{aligned}$$

13. 최고차항의 계수가 1인 삼차함수 $f(x)$ 가

$$f(1) = f(2) = 0, \quad f'(0) = -7$$

을 만족시킨다. 원점 O 와 점 $P(3, f(3))$ 에 대하여 선분 OP 가 곡선 $y=f(x)$ 와 만나는 점 중 P 가 아닌 점을 Q 라 하자. 곡선 $y=f(x)$ 와 y 축 및 선분 OQ 로 둘러싸인 부분의 넓이를 A , 곡선 $y=f(x)$ 와 선분 PQ 로 둘러싸인 부분의 넓이를 B 라 할 때, $B-A$ 의 값은? [4점]

- ① $\frac{37}{4}$ ② $\frac{39}{4}$ ③ $\frac{41}{4}$ ④ $\frac{43}{4}$ ⑤ $\frac{45}{4}$



$$f(x) = (x-1)(x-2)(x-\alpha)$$

$$f'(x) = (x-1)(x-2) + (x-2)(x-\alpha) + (x-1)(x-\alpha)$$

$$f'(0) = 3\alpha + 2 = -7$$

$$\alpha = -3$$

$$f(0) = 12$$

$$f(x) = (x^2 - 3x + 2)(x + 3) = x^3 - 11x + 6$$

$$B-A = \int_0^3 [f(x) - f(x)] dx$$

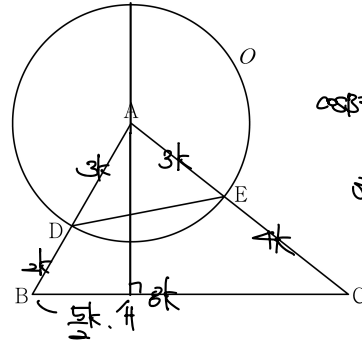
$$= \int_0^3 (-x^3 + 11x - 6) dx$$

$$= \left[-\frac{1}{4}x^4 + \frac{11}{2}x^2 - 6x \right]_0^3$$

$$= \frac{45}{4}$$

14. 그림과 같이 삼각형 ABC 에서 선분 AB 위에 $\overline{AD} : \overline{DB} = 3 : 2$ 인 점 D 를 잡고, 점 A 를 중심으로 하고 점 D 를 지나는 원 O , 원 O 와 선분 AC 가 만나는 점을 E 라 하자.

$\sin A : \sin C = 8 : 5$ 이고, 삼각형 ADE 와 삼각형 ABC 의 넓이의 비가 $9 : 35$ 이다. 삼각형 ABC 의 외접원의 반지름의 길이가 7일 때, 원 O 위의 점 P 에 대하여 삼각형 PBC 의 넓이의 최댓값은? (단, $\overline{AB} < \overline{AC}$) [4점]



~~276-4P~~

$$\cos B = \frac{5^2 + 8^2 - 1^2}{2 \cdot 5 \cdot 8} = \frac{40}{80} = \frac{1}{2}$$

$$\sin B = \frac{\sqrt{3}}{2}$$

$$\frac{7k}{2k} = 14 \therefore k = \sqrt{3}, \quad r = 2k$$

① $18 + 15\sqrt{3}$

② $24 + 20\sqrt{3}$

③ $30 + 25\sqrt{3}$

④ $36 + 30\sqrt{3}$

⑤ $42 + 35\sqrt{3}$

$$AH = 5k \times \frac{\sqrt{3}}{2} = \frac{5\sqrt{3}}{2}k$$

$$\begin{aligned} \max \triangle PBC &= \frac{3k}{2} \left(\frac{5\sqrt{3}}{2}k + 3k \right) \\ &= k^2 (10\sqrt{3} + 12) \\ &= 36 + 30\sqrt{3} \end{aligned}$$

15. 상수 $a(a \neq 3\sqrt{5})$ 와 최고차항의 계수가 음수인 이차함수 $f(x)$ 에 대하여 함수

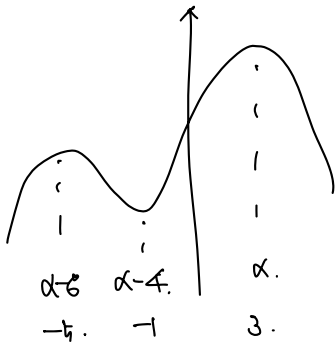
$$g(x) = \begin{cases} x^3 + ax^2 + 15x + 7 & (x \leq 0) \\ f(x) & (x > 0) \end{cases}$$

이 다음 조건을 만족시킨다.

- (가) 함수 $g(x)$ 는 실수 전체의 집합에서 미분가능하다.
- (나) x 에 대한 방정식 $g'(x) \times g'(x-4) = 0$ 의 서로 다른 실근의 개수는 4이다.

$g(-2) + g(2)$ 의 값은? [4점]

- ① 30 ② 32 ③ 34 ④ 36 ⑤ 38



$$3x^2 + 2ax + 15$$

$$\left(\frac{2a}{3}\right)^2 - 20 = 16$$

$$\left(\frac{2a}{3}\right)^2 = 36$$

$$\frac{2a}{3} = 6$$

$$a = 9$$

$$x^3 + 6x^2 + 5$$

$$f(x) = kx^2 - 6kx + 11$$

$$= -\frac{5}{2}x^2 + (5x + 11)$$

$$-6k = 15$$

$$k = -\frac{5}{2}$$

$$g(-2) = -8 + 36 - 30 + 11 = 5$$

$$g(2) = -10 + 30 + 11 = 21$$

단답형

16. 방정식

$$\log_2(x-3) = \log_4(3x-5)$$

를 만족시키는 실수 x 의 값을 구하시오. [3점]

$$x^2 - 6x + 9 = 3x - 5$$

$$x^2 - 9x + 14 = 0$$

$$x = 7$$

17. 다항함수 $f(x)$ 에 대하여 $f'(x) = 9x^2 + 4x$ 이고 $f(1) = 6$ 일 때, $f(2)$ 의 값을 구하시오. [3점]

$$f(x) = 3x^3 + 2x^2 + 1$$

$$f(2) = 24 + 8 + 1$$

$$= 33$$

18. 수열 $\{a_n\}$ 이 모든 자연수 n 에 대하여

$$a_n + a_{n+4} = 12$$

를 만족시킬 때, $\sum_{n=1}^{16} a_n$ 의 값을 구하시오. [3점]

$$\begin{pmatrix} a_1 + a_5 \\ \vdots \\ a_4 + a_8 \end{pmatrix} = 48.$$

$$\begin{pmatrix} a_9 + a_{13} \\ \vdots \\ a_{12} + a_{16} \end{pmatrix} = 48.$$

(16)

19. 양수 a 에 대하여 함수 $f(x)$ 를

$$f(x) = 2x^3 - 3ax^2 - 12a^2x$$

라 하자. 함수 $f(x)$ 의 극댓값이 $\frac{7}{27}$ 일 때, $f(3)$ 의 값을 구하시오. [3점]

$$\begin{aligned} f'(x) &= 6x^2 - 6ax - 12a^2 \\ &= 6(x+a)(x-2a). \end{aligned}$$

$$\begin{aligned} f(-a) &= -2a^3 - 3a^3 + 12a^3 \\ &= 7a^3 = \frac{7}{27}. \end{aligned}$$

$$a = \frac{1}{3}$$

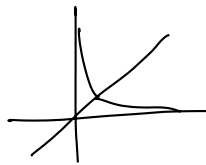
$$f(x) = 2x^3 - x^2 - 4x$$

$$\begin{aligned} f(3) &= 54 - 9 - 12 \\ &= 33 \end{aligned}$$

20. 곡선 $y = \left(\frac{1}{5}\right)^{x-3}$ 과 직선 $y=x$ 가 만나는 점의 x 좌표를 k 라 하자. 실수 전체의 집합에서 정의된 함수 $f(x)$ 가 다음 조건을 만족시킨다.

$x > k$ 인 모든 실수 x 에 대하여
 $f(x) = \left(\frac{1}{5}\right)^{x-3}$ 이고 $f(f(x)) = 3x$ 이다.

$f\left(\frac{1}{k^3 \times 5^{3k}}\right)$ 의 값을 구하시오. [4점]



$$\begin{aligned} f(x) &= \log_{\frac{1}{5}} x + 3 \\ &= -\log_5 x + 3 \\ f(k) &= -3 \log_5 k + 3 \\ \left(\frac{1}{5}\right)^{k-3} &= f(k) \\ \left(\frac{1}{5}\right)^{k-3} &= -\log_5 k + 3 \\ 5^{3-k} &= k \\ \log_5 k &= 3-k \end{aligned}$$

$$f\left(k^{-3} \times 5^{-3k}\right)$$

$$3 \log_5 k + (k+3) = 36$$

21. 함수 $f(x) = x^3 + ax^2 + bx + 4$ 가 다음 조건을 만족시키도록 하는 두 정수 a, b 에 대하여 $f(1)$ 의 최댓값을 구하시오. [4점]

모든 실수 α 에 대하여 $\lim_{x \rightarrow \alpha} \frac{f(2x+1)}{f(x)}$ 의 값이 존재한다.

$$f(x) = (x+1)(x^2 + kx + 4)$$

$$x^2 + kx + 4 > 0$$

$$k^2 - 16 < 0, \quad -4 < k < 4$$

$k=3$ 일때.

$$f(1) = 2 \cdot 8 = \boxed{16}$$

22. 모든 항이 정수이고 다음 조건을 만족시키는 모든 수열 $\{a_n\}$ 에 대하여 $|a_1|$ 의 값의 합을 구하시오. [4점]

(가) 모든 자연수 n 에 대하여

$$a_{n+1} = \begin{cases} a_n - 3 & (|a_n| \text{이 홀수인 경우}) * \frac{a_n}{2} - 3 = \frac{a_n}{2} \\ \frac{1}{2}a_n & (a_n = 0 \text{ 또는 } |a_n| \text{이 짝수인 경우}) \end{cases}$$

이다.

(나) $|a_m| = |a_{m+2}|$ 인 자연수 m 의 최솟값은 3이다.

$$a_3 = a_5 \quad \text{or} \quad a_3 = -a_5$$

D. $a_3 = 4$ 의 배수.

$$a_4 = \frac{1}{2}a_3$$

$$a_5 = \frac{1}{4}a_3 \begin{cases} = a_3 \\ = -a_3 \end{cases}$$

$$\therefore a_3 = a_4 = a_5 = 0$$

ii). $a_3 = 2$ 의 배수 & 4의 배수.

$$a_4 = \frac{1}{2}a_3$$

$$a_5 = \frac{1}{2}a_3 - 3 \begin{cases} = a_3 \\ = -a_3 \end{cases}$$

$$a_3 = -6 \quad \text{or} \quad a_3 = 2$$

iii). $a_3 = \frac{3}{2}$.

$$a_4 = a_3 - 3$$

$$a_5 = \frac{1}{2}a_3 - \frac{3}{2} \begin{cases} = a_3 \\ = -a_3 \end{cases}$$

$$a_3 = -3 \quad \text{or} \quad a_3 = 1$$

n	1	2	3	4	5	
a_n		0	0	0	0	X
6.	3	0	0	0	0	OK
		-3	-6	-3	-6	X
9.	-12	-6	-3	-6	-3	OK
10.	-12	-6	-3	-6	-3	OK
10.	5	2	1	-2	-2	OK
7	4	2	1	-2	-2	OK
8	4	2	1	-2	-2	OK
		-6	-3	-6	-3	X
		2	1	-2	-1	X

$$6 + 12 + 24 + 10 + 7 + 8$$

* 확인 사항

○ 답안지의 해당란에 필요한 내용을 정확히 기입(표기)했는지 확인하시오.

○ 이어서, 「선택과목(확률과 통계)」 문제가 제시되오니, 자신이 선택한 과목인지 확인하시오.

제 2 교시

수학 영역(확률과 통계)

홀수형

5지선다형

23. 다항식 $(x^3 + 2)^5$ 의 전개식에서 x^6 의 계수는? [2점]

- ① 40 ② 50 ③ 60 ④ 70 ⑤ 80

$$nC_k \cdot (x^3)^k \cdot (2)^{5-k} = 50x^6$$

24. 두 사건 A, B 에 대하여

$$P(A|B) = P(A) = \frac{1}{2}, \quad P(A \cap B) = \frac{1}{5}$$

일 때, $P(A \cup B)$ 의 값은? [3점]

- ① $\frac{1}{2}$ ② $\frac{3}{5}$ ③ $\frac{7}{10}$ ④ $\frac{4}{5}$ ⑤ $\frac{9}{10}$

$$\frac{P(A \cap B)}{P(B)} = \frac{\frac{1}{5}}{P(B)} = \frac{1}{2} \quad \therefore P(B) = \frac{2}{5}$$

$$\begin{aligned} P(A \cup B) &= P(A) + P(B) - P(A \cap B) \\ &= \frac{1}{2} + \frac{2}{5} - \frac{1}{5} \\ &= \frac{7}{10} \end{aligned}$$

25. 정규분포 $N(m, 2^2)$ 을 따르는 모집단에서 크기가 256인 표본을 임의추출하여 얻은 표본평균을 이용하여 구한 m 에 대한 신뢰도 95%의 신뢰구간이 $a \leq m \leq b$ 이다. $b-a$ 의 값은? (단, Z 가 표준정규분포를 따르는 확률변수일 때, $P(|Z| \leq 1.96) = 0.95$ 로 계산한다.) [3점]

- ① 0.49 ② 0.52 ③ 0.55 ④ 0.58 ⑤ 0.61

$$b-a = 2 \times 1.96 \times \frac{2}{\sqrt{256}}$$

$$= 0.49$$

26. 어느 학급의 학생 16명을 대상으로 과목 A와 과목 B에 대한 선호도를 조사하였다. 이 조사에 참여한 학생은 과목 A와 과목 B 중 하나를 선택하였고, 과목 A를 선택한 학생은 9명, 과목 B를 선택한 학생은 7명이다. 이 조사에 참여한 학생 16명 중에서 임의로 3명을 선택할 때, 선택한 3명의 학생 중에서 적어도 한 명이 과목 B를 선택한 학생일 확률은? [3점]


- ① $\frac{3}{4}$ ② $\frac{4}{5}$ ③ $\frac{17}{20}$ ④ $\frac{9}{10}$ ⑤ $\frac{19}{20}$

$$1 - \frac{9C_3}{16C_3} = 1 - \frac{1 \cdot 8 \cdot 7}{16 \cdot 15 \cdot 14} = 1 - \frac{3}{20} = \frac{17}{20}$$

27. 숫자 1, 3, 5, 7, 9가 각각 하나씩 적혀 있는 5장의 카드가 들어 있는 주머니가 있다. 이 주머니에서 임의로 1장의 카드를 꺼내어 카드에 적혀 있는 수를 확인한 후 다시 넣는 시행을 한다. 이 시행을 3번 반복하여 확인한 세 개의 수의 평균을 \bar{X} 라 하자. $V(a\bar{X}+6)=24$ 일 때, 양수 a 의 값은?

[3점]

- ① 1 ② 2 ③ 3 ④ 4 ⑤ 5



$$E(X) = \frac{1+3+5+7+9}{5} = 5$$

$$V(X) = \frac{(1-5)^2 + (3-5)^2 + (5-5)^2 + (7-5)^2 + (9-5)^2}{5} = 8$$

$$V(\bar{X}) = \frac{V(X)}{3} = \frac{8}{3}$$

$$V(a\bar{X}+6) = \frac{8}{3}a^2 = 24$$

$$\therefore a=3 \quad (\because a>0)$$

28. 집합 $X = \{1, 2, 3, 4, 5, 6\}$ 에 대하여 다음 조건을 만족시키는 함수 $f: X \rightarrow X$ 의 개수는? [4점]

- (가) $f(1) \times f(6)$ 의 값이 6의 약수이다.
 (나) $2f(1) \leq f(2) \leq f(3) \leq f(4) \leq f(5) \leq 2f(6)$

- ① 166 ② 171 ③ 176 ④ 181 ⑤ 186

① $f(1) \times f(6) = 1$.

$f(2) = f(3) = f(4) = f(5) = 2$.
 1가지

② $f(1) \times f(6) = 2$.

$f(1) = 1, f(6) = 2$.

$2 \leq f(2) \leq f(3) \leq f(4) \leq f(5) \leq 4$.

$6C_2 = 15$ 가지

③ $f(1) \times f(6) = 3$.

$f(1) = 1, f(6) = 3$.

$2 \leq f(2) \leq f(3) \leq f(4) \leq f(5) \leq 6$.

$8C_2 = 28$ 가지

④ $f(1) \times f(6) = 6$.

④ $f(1) = 1, f(6) = 6$.

$2 \leq \dots \leq 6 \leq 12$.

$8C_2 = 28$ 가지

⑤ $f(1) = 2, f(6) = 3$.

$4 \leq \dots \leq 6$.

$6C_2 = 15$ 가지

$\therefore 171$

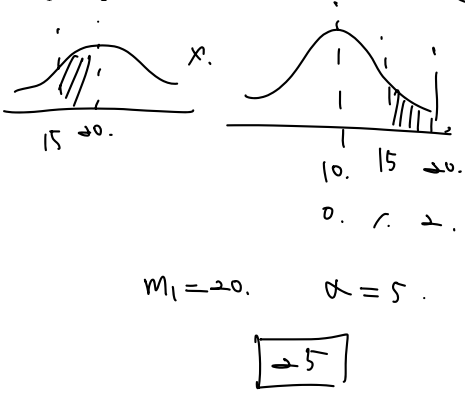
단답형

29. 정규분포 $N(m_1, \sigma_1^2)$ 을 따르는 확률변수 X 와 정규분포 $N(m_2, \sigma_2^2)$ 을 따르는 확률변수 Y 가 다음 조건을 만족시킨다.

모든 실수 x 에 대하여
 $P(X \leq x) = P(X \geq 40 - x)$ 이고 $m_1 = 20$.
 $P(Y \leq x) = P(X \leq x + 10)$ 이다. $m_2 = 10$. $\sigma_1 = \sigma_2$.

$P(15 \leq X \leq 20) + P(15 \leq Y \leq 20)$ 의 값을 오른쪽 표준정규분포표를 이용하여 구한 것이 0.4772 일 때, $m_1 + \sigma_2$ 의 값을 구하시오. (단, σ_1 과 σ_2 는 양수이다.) [4점]

z	$P(0 \leq Z \leq z)$
0.5	0.1915
1.0	0.3413
1.5	0.4332
2.0	0.4772



30. 탁자 위에 5개의 동전이 일렬로 놓여 있다. 이 5개의 동전 중 1번째 자리와 2번째 자리의 동전은 앞면이 보이도록 놓여 있고, 나머지 자리의 3개의 동전은 뒷면이 보이도록 놓여 있다. 이 5개의 동전과 한 개의 주사위를 사용하여 다음 시행을 한다.

주사위를 한 번 던져 나온 눈의 수가 k 일 때, $k \leq 5$ 이면 k 번째 자리의 동전을 한 번 뒤집어 제자리에 놓고, $k = 6$ 이면 모든 동전을 한 번씩 뒤집어 제자리에 놓는다.

위의 시행을 3번 반복한 후 이 5개의 동전이 모두 앞면이 보이도록 놓여 있을 확률은 $\frac{q}{p}$ 이다. $p+q$ 의 값을 구하시오. (단, p 와 q 는 서로소인 자연수이다.) [4점]



3. 4. 5 or 1. 2. 6.

∴ $3 \cdot 4 \cdot 5$ ii) $1 \cdot 2 \cdot 6$

$\therefore 3! \times \left(\frac{1}{6}\right)^3 = \frac{1}{36}$ $3! \times \left(\frac{1}{6}\right)^3 \times \frac{1}{36}$

$\frac{1}{36} + \frac{1}{36} = \frac{1}{18}$

$p+q = \boxed{18}$

* 확인 사항

- 답안지의 해당란에 필요한 내용을 정확히 기입(표기)했는지 확인하시오.
- 이어서, 「선택과목(미적분)」 문제가 제시되오니, 자신이 선택한 과목인지 확인하시오.

제 2 교시

수학 영역(미적분)

홀수형

5지선다형

23. $\lim_{x \rightarrow 0} \frac{3x^2}{\sin^2 x}$ 의 값은? [2점]

- ① 1
- ② 2
- ③ 3
- ④ 4
- ⑤ 5

$$\frac{3}{1}$$

24. $\int_0^{10} \frac{x+2}{x+1} dx$ 의 값은? [3점]

- ① $10 + \ln 5$
- ② $10 + \ln 7$
- ③ $10 + 2\ln 3$
- ④ $10 + \ln 11$
- ⑤ $10 + \ln 13$

$$\int_0^{10} \left(1 + \frac{1}{x+1}\right) dx = \left[x + \ln|x+1|\right]_0^{10}$$

$$= 10 + \ln 11.$$

25. 수열 $\{a_n\}$ 에 대하여 $\lim_{n \rightarrow \infty} \frac{na_n}{n^2+3} = 1$ 일 때,

$\lim_{n \rightarrow \infty} (\sqrt{a_n^2+n} - a_n)$ 의 값은? [3점]

- ① $\frac{1}{3}$ ② $\frac{1}{2}$ ③ 1 ④ 2 ⑤ 3

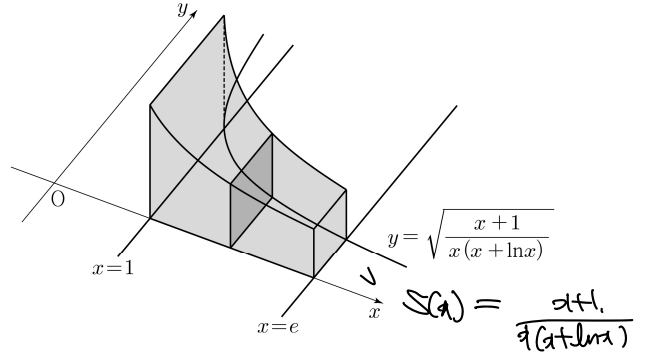
$$\lim_{n \rightarrow \infty} \frac{a_n}{n} = 1$$

$$\lim_{n \rightarrow \infty} \frac{n}{\sqrt{a_n^2+n} + a_n}$$

$$= \lim_{n \rightarrow \infty} \frac{1}{\sqrt{\frac{a_n^2}{n^2} + \frac{1}{n}} + \frac{a_n}{n}} = \frac{1}{2}$$

26. 그림과 같이 곡선 $y = \sqrt{\frac{x+1}{x(x+\ln x)}}$ 과 x 축 및 두 직선

$x=1, x=e$ 로 둘러싸인 부분을 밑면으로 하는 입체도형이 있다. 이 입체도형을 x 축에 수직인 평면으로 자른 단면이 모두 정사각형일 때, 이 입체도형의 부피는? [3점]



- ① $\ln(e+1)$ ② $\ln(e+2)$ ③ $\ln(e+3)$
 ④ $\ln(2e+1)$ ⑤ $\ln(2e+2)$

$$S(x) = \frac{x+1}{x(x+\ln x)}$$

$$z = x + \ln x$$

$$dz = (1 + \frac{1}{x}) dx$$

$$\int_1^e S(x) dx = \int_1^{e+1} \frac{1}{z} dz = \ln|z| \Big|_1^{e+1} = \ln(e+1)$$

27. 최고차항의 계수가 1인 삼차함수 $f(x)$ 에 대하여 함수 $g(x)$ 를

$$g(x) = f(e^x) + e^x$$

이라 하자. 곡선 $y = g(x)$ 위의 점 $(0, g(0))$ 에서의 접선이 x 축이고 함수 $g(x)$ 가 역함수 $h(x)$ 를 가질 때, $h'(8)$ 의 값은?

[3점]

- ㉠ $\frac{1}{36}$ ㉡ $\frac{1}{18}$ ㉢ $\frac{1}{12}$ ㉣ $\frac{1}{9}$ ㉤ $\frac{5}{36}$

$$\begin{aligned} g'(0) = 0, \quad f'(0) + 1 = 0 &\quad \therefore f'(0) = -1 \\ g'(8) = 0, \quad f'(8) + 1 = 0 &\quad \therefore f'(8) = -1 \end{aligned}$$

$$f(x) = (x-1)^3 - x$$

$$g(x) = (e^x - 1)^3 - e^x \quad g'(x) = 3(e^x - 1)^2 e^x - e^x$$

$$h(8) = \ln 3 \quad g'(\ln 3) = 3$$

$$h'(8) = \frac{1}{g'(h(8))} = \frac{1}{g'(\ln 3)} = \frac{1}{3}$$

$$f'(x) = -1 - 2xe^{-x^2}$$

$$f'(1) = -3$$

$$g(x) = f(x) - \int_0^x f(x) dx \quad u=f(x) \quad v'=1$$

$$= f(x) - \left[xf(x) \right]_0^x + \int_0^x xf'(x) dx$$

$$= \int_0^x xf'(x) dx$$

$$= \int_0^1 (-x^2 + xe^{-x^2}) dx$$

$$= \left[-\frac{1}{3}x^3 - \frac{1}{2}e^{-x^2} \right]_0^1$$

$$= -\frac{5}{6} + \frac{1}{2}e$$

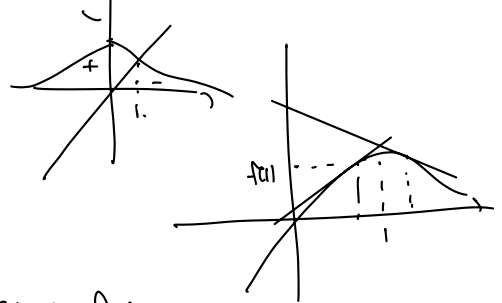
28. 실수 전체의 집합에서 미분가능한 함수 $f(x)$ 의 도함수 $f'(x)$ 가

$$f'(x) = -\frac{1}{2}x^2 +$$

$$f'(x) = -x + e^{1-x^2}$$

이다. 양수 t 에 대하여 곡선 $y = f(x)$ 위의 점 $(t, f(t))$ 에서의 접선과 곡선 $y = f(x)$ 및 y 축으로 둘러싸인 부분의 넓이를 $g(t)$ 라 하자. $g(1) + g'(1)$ 의 값은? [4점]

- ㉠ $\frac{1}{2}e + \frac{1}{2}$ ㉡ $\frac{1}{2}e + \frac{2}{3}$ ㉢ $\frac{1}{2}e + \frac{5}{6}$
 ㉣ $\frac{2}{3}e + \frac{1}{2}$ ㉤ $\frac{2}{3}e + \frac{2}{3}$



$$\begin{aligned} h(x) &= f'(x)(x-t) + f(t) \\ &= f'(x)x - f'(t)x + f(t) \end{aligned}$$

$$g(t) = \int_0^t [h(x) - f(x)] dx$$

$$= \int_0^t [f'(x)x - f'(t)x + f(t) - f(x)] dx$$

$$g'(t) = \int_0^t [f'(x) - f'(t)] dx + f(t) - f(t)$$

$$= \frac{1}{2}f'(t) - f'(t) + f(t) - \int_0^t f'(x) dx$$

$$= f(t) - \int_0^t f'(x) dx$$

$$g(t) = f(t) \int_0^t dx - \frac{1}{2}f'(t) \int_0^t dx + f(t) \int_0^t dx - \int_0^t f(x) dx$$

$$= \frac{1}{2}t^2 f'(t) - \frac{1}{2}t^2 f'(t) + t f(t) - \int_0^t f(x) dx$$

$$= -\frac{1}{2}t^2 f'(t) + t f(t) - \int_0^t f(x) dx$$

$$\begin{aligned} g'(t) &= -\frac{1}{2}t^2 f''(t) - \frac{1}{2}t^2 f'(t) + f(t) + t f'(t) - f(t) \\ &= -\frac{1}{2}t^2 f''(t) \end{aligned}$$

$$g'(1) = -\frac{1}{2}(1)(-3) = \frac{3}{2}$$

$$g(1) + g'(1) = \frac{1}{2}e + \frac{3}{2}$$

$$\frac{a}{1-r} = \frac{a}{1-r} \Rightarrow \frac{a}{1-r} = \frac{a}{1-r} \Rightarrow \frac{a}{1-r} = \frac{a}{1-r}$$

답답형

29. 등비수열 $\{a_n\}$ 이

$$\sum_{n=1}^{\infty} (|a_n| + a_n) = \frac{40}{3}, \quad \sum_{n=1}^{\infty} (|a_n| - a_n) = \frac{20}{3}$$

을 만족시킨다. 부등식

$$\lim_{n \rightarrow \infty} \sum_{k=1}^{2n} (-1)^{\frac{k(k+1)}{2}} \times a_{m+k} > \frac{1}{700}$$

을 만족시키는 모든 자연수 m 의 값의 합을 구하시오. [4점]

$$\frac{a}{1-r} = \frac{10}{3}, \quad a > 0, \quad r < 0.$$

$$(-1)^{\frac{k(k+1)}{2}} \rightarrow -1, -1, 1, 1, -1, -1, \dots$$

$$\sum_{k=1}^m (-1)^k (a_{m+k+1} + a_{m+k}) = \frac{1}{4} - \frac{1}{2}$$

$$= \frac{-a_{m+1} + a_{m+2}}{1+r^2} = \frac{-a_m(r+r^2)}{1+r^2} > \frac{1}{700}$$

$$= \frac{-\frac{1}{5} a_m}{\frac{5}{4}} < -a_m$$

$$a_m > \frac{1}{40}$$

$\therefore 3, \dots, p.$

14

30. 두 상수 $a (1 \leq a \leq 2)$, b 에 대하여 함수

$f(x) = \sin(ax + b + \sin x)$ 가 다음 조건을 만족시킨다.

$$f(x) = \cos(ax + b + \sin x) (a + \cos x).$$

(가) $f(0) = 0, f(2\pi) = 2\pi a + b$

(나) $f'(0) = f'(t)$ 인 양수 t 의 최솟값은 4π 이다.

함수 $f(x)$ 가 $x = \alpha$ 에서 극대인 α 의 값 중 열린구간 $(0, 4\pi)$ 에 속하는 모든 값의 집합을 A 라 하자. 집합 A 의 원소의 개수를 n , 집합 A 의 원소 중 가장 작은 값을 α_1 이라 하면,

$$n\alpha_1 - ab = \frac{q}{p}\pi \text{이다. } p+q \text{의 값을 구하시오.}$$

(단, p 와 q 는 서로소인 자연수이다.) [4점]

$$f(0) = \sin(b) = 0, \quad b = n\pi \quad (n = \text{정수}).$$

$$f'(t) = \sin(2\pi a + b) = 2\pi a + b, \quad 2\pi a + b = 0$$

$$(ax + b + \sin x)' = \cos x + a \geq 0. \quad \text{증명할 것.}$$

$$f(x) = \cos(ax + b + \sin x) (a + \cos x).$$


$$f'(0) = f'(4\pi) \Rightarrow 4\pi a + b = 2\pi$$

$$\therefore a = \frac{1}{2}, \quad b = -2\pi$$

$$\therefore f(x) = \sin\left(\frac{1}{2}x - 2\pi + \sin x\right)$$

$$g(x) = \frac{1}{2}x - 2\pi + \sin x, \quad g'(x) = \frac{1}{2} + \cos x = 0.$$

$$f(x) = \sin(g(x)) \cdot g'(x).$$



$$g(x) = \frac{3}{2}\pi.$$

$$\frac{3}{2}\alpha + \sin \alpha = \frac{3}{2} \quad \therefore \alpha = \pi.$$

$$n\alpha_1 - ab = 3\pi - \frac{1}{2}(-2\pi) = \frac{15}{2}\pi$$

17

* 확인 사항

- 답안지의 해당란에 필요한 내용을 정확히 기입(표기)했는지 확인하시오.
- 이어서, 「선택과목(기하)」 문제가 제시되오니, 자신이 선택한 과목인지 확인하시오.



제 2 교시

수학 영역(기하)

홀수형


5지선다형

23. 두 벡터 $\vec{a} = (k, 3)$, $\vec{b} = (1, 2)$ 에 대하여 $\vec{a} + 3\vec{b} = (6, 9)$ 일 때, k 의 값은? [2점]

- ① 1
- ② 2
- ③ 3
- ④ 4
- ⑤ 5

24. 꼭짓점의 좌표가 $(1, 0)$ 이고, 준선이 $x = -1$ 인 포물선이 점 $(3, a)$ 를 지날 때, 양수 a 의 값은? [3점]

- ① 1
- ② 2
- ③ 3
- ④ 4
- ⑤ 5

$a=1$


$y^2 = 4 \cdot 2 \cdot x$
 $y^2 = 8(x-1)$
 $a^2 = 16$
 $a = 4$

25. 좌표공간의 두 점 $A(a, b, 6)$, $B(-4, -2, c)$ 에 대하여 선분 AB를 3:2로 내분하는 점이 z 축 위에 있고, 선분 AB를 3:2로 외분하는 점이 xy 평면 위에 있을 때, $a+b+c$ 의 값은? [3점]

- ① 11 ② 12 ③ 13 ④ 14 ⑤ 15

$$\begin{aligned} (a, b, 6) & \quad \therefore \\ (-4, -2, c) & \quad \therefore \end{aligned}$$

$$2a - 12 = 0 \quad \therefore a = 6$$

$$2b - 6 = 0 \quad \therefore b = 3$$

$$12 - 3c = 0 \quad \therefore c = 4$$

26. 자연수 $n(n \geq 2)$ 에 대하여 직선 $x = \frac{1}{n}$ 이 두 타원과

$$C_1 : \frac{x^2}{2} + y^2 = 1, \quad C_2 : 2x^2 + \frac{y^2}{2} = 1$$

과 만나는 제1사분면 위의 점을 각각 P, Q라 하자.

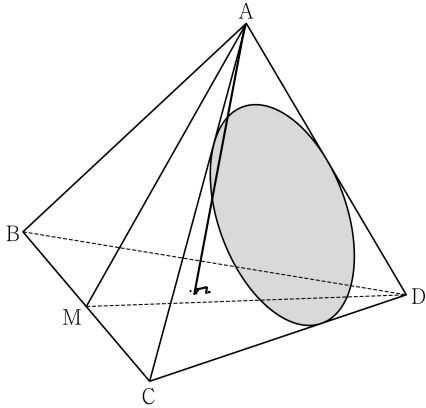
타원 C_1 위의 점 P에서의 접선의 x 절편을 α ,

타원 C_2 위의 점 Q에서의 접선의 x 절편을 β 라 할 때,

$6 \leq \alpha - \beta \leq 15$ 가 되도록 하는 모든 n 의 개수는? [3점]

- ① 7 ② 9 ③ 11 ④ 13 ⑤ 15

27. 그림과 같이 $\overline{AB} = 6$, $\overline{BC} = 4\sqrt{5}$ 인 사면체 ABCD에 대하여 선분 BC의 중점을 M이라 하자. 삼각형 AMD가 정삼각형이고 직선 BC는 평면 AMD와 수직일 때, 삼각형 ACD에 내접하는 원의 평면 BCD 위로의 정사영의 넓이는? [3점]



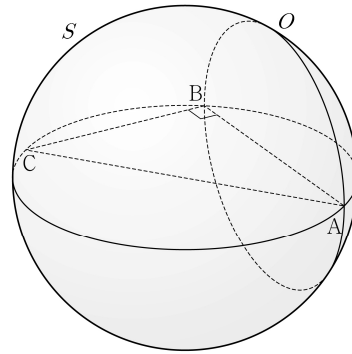
- ① $\frac{\sqrt{10}}{4}\pi$ ② $\frac{\sqrt{10}}{6}\pi$ ③ $\frac{\sqrt{10}}{8}\pi$
- ④ $\frac{\sqrt{10}}{10}\pi$ ⑤ $\frac{\sqrt{10}}{12}\pi$

28. 좌표공간에 $\overline{AB} = 8$, $\overline{BC} = 6$, $\angle ABC = \frac{\pi}{2}$ 인 직각삼각형

ABC와 선분 AC를 지름으로 하는 구 S가 있다. 직선 AB를 포함하고 평면 ABC에 수직인 평면이 구 S와 만나서 생기는 원을 O라 하자. 원 O 위의 점 중에서 직선 AC까지의 거리가 4인 서로 다른 두 점을 P, Q라 할 때, 선분 PQ의 길이는?

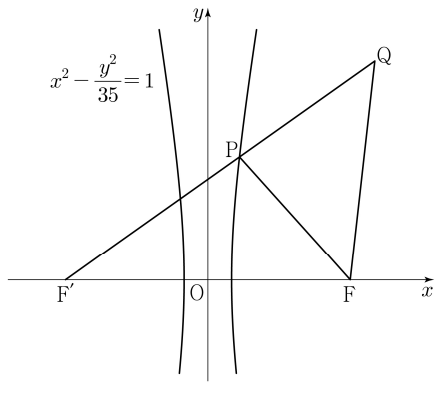
[4점]

- ① $\sqrt{43}$ ② $\sqrt{47}$ ③ $\sqrt{51}$ ④ $\sqrt{55}$ ⑤ $\sqrt{59}$



단답형

29. 두 초점이 $F(c, 0), F'(-c, 0)$ ($c > 0$)인 쌍곡선 $x^2 - \frac{y^2}{35} = 1$ 이 있다. 이 쌍곡선 위에 있는 제1사분면 위의 점 P 에 대하여 직선 PF' 위에 $\overline{PQ} = \overline{PF}$ 인 점 Q 를 잡자. 삼각형 $QF'F$ 와 삼각형 $FF'P$ 가 서로 닮음일 때, 삼각형 PFQ 의 넓이는 $\frac{q}{p}\sqrt{5}$ 이다. $p+q$ 의 값을 구하시오. (단, $\overline{PF'} < \overline{QF'}$ 이고, p 와 q 는 서로소인 자연수이다.) [4점]



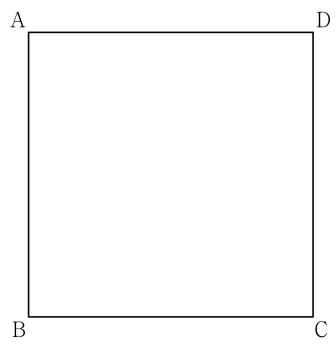
30. 좌표평면에 한 변의 길이가 4인 정사각형 ABCD가 있다.

$$|\overrightarrow{XB} + \overrightarrow{XC}| = |\overrightarrow{XB} - \overrightarrow{XC}|$$

를 만족시키는 점 X 가 나타내는 도형을 S 라 하자. 도형 S 위의 점 P 에 대하여

$$4\overrightarrow{PQ} = \overrightarrow{PB} + 2\overrightarrow{PD}$$

를 만족시키는 점을 Q 라 할 때, $\overrightarrow{AC} \cdot \overrightarrow{AQ}$ 의 최댓값과 최솟값을 각각 M, m 이라 하자. $M \times m$ 의 값을 구하시오. [4점]



* 확인 사항
 ○ 답안지의 해당란에 필요한 내용을 정확히 기입(표기)했는지 확인하시오.

제 2 교시

수학 영역

짜수형

5지선다형

1. $\sqrt[3]{5} \times 25^{\frac{1}{3}}$ 의 값은? [2점]

- ① 1 ② 2 ③ 3 ④ 4 ⑤ 5

2. 함수 $f(x) = x^3 - 8x + 7$ 에 대하여 $\lim_{h \rightarrow 0} \frac{f(2+h) - f(2)}{h}$ 의 값은? [2점]

- ① 1 ② 2 ③ 3 ④ 4 ⑤ 5

3. 첫째항과 공비가 모두 양수 k 인 등비수열 $\{a_n\}$ 이

$$\frac{a_4}{a_2} + \frac{a_2}{a_1} = 30$$

을 만족시킬 때, k 의 값은? [3점]

- ① 1 ② 2 ③ 3 ④ 4 ⑤ 5

4. 함수

$$f(x) = \begin{cases} 5x + a & (x < -2) \\ x^2 - a & (x \geq -2) \end{cases}$$

가 실수 전체의 집합에서 연속일 때, 상수 a 의 값은? [3점]

- ① 6 ② 7 ③ 8 ④ 9 ⑤ 10

5. 함수 $f(x) = (x^2 + 1)(3x^2 - x)$ 에 대하여 $f'(1)$ 의 값은? [3점]

- ① 8 ② 10 ③ 12 ④ 14 ⑤ 16

7. 다항함수 $f(x)$ 가 모든 실수 x 에 대하여

$$\int_0^x f(t) dt = 3x^3 + 2x$$

를 만족시킬 때, $f(1)$ 의 값은? [3점]

- ① 7 ② 9 ③ 11 ④ 13 ⑤ 15

6. $\cos\left(\frac{\pi}{2} + \theta\right) = -\frac{1}{5}$ 일 때, $\frac{\sin\theta}{1 - \cos^2\theta}$ 의 값은? [3점]

- ① -5 ② $-\sqrt{5}$ ③ 0 ④ $\sqrt{5}$ ⑤ 5

8. 두 실수 $a = 2\log \frac{1}{\sqrt{10}} + \log_2 20$, $b = \log 2$ 에 대하여 $a \times b$ 의 값은? [3점]

- ① 1 ② 2 ③ 3 ④ 4 ⑤ 5

9. 함수 $f(x) = 3x^2 - 16x - 20$ 에 대하여

$$\int_{-2}^a f(x) dx = \int_{-2}^0 f(x) dx$$

일 때, 양수 a 의 값은? [4점]

- ① 8 ② 10 ③ 12 ④ 14 ⑤ 16

10. 닫힌구간 $[0, 2\pi]$ 에서 정의된 함수 $f(x) = a \cos bx + 3$ 이

$x = \frac{\pi}{3}$ 에서 최댓값 13을 갖도록 하는 두 자연수 a, b 의 순서쌍 (a, b) 에 대하여 $a+b$ 의 최솟값은? [4점]

- ① 12 ② 14 ③ 16 ④ 18 ⑤ 20

11. 시각 $t=0$ 일 때 출발하여 수직선 위를 움직이는 점 P의 시각 $t(t \geq 0)$ 에서의 위치 x 가

$$x = t^3 - \frac{3}{2}t^2 - 6t$$

이다. 출발한 후 점 P의 운동 방향이 바뀌는 시각에서의 점 P의 가속도는? [4점]

- ① 18 ② 15 ③ 12 ④ 9 ⑤ 6

12. $a_1 = 2$ 인 수열 $\{a_n\}$ 과 $b_1 = 2$ 인 등차수열 $\{b_n\}$ 이 모든 자연수 n 에 대하여

$$\sum_{k=1}^n \frac{a_k}{b_{k+1}} = \frac{1}{2}n^2$$

을 만족시킬 때, $\sum_{k=1}^5 a_k$ 의 값은? [4점]

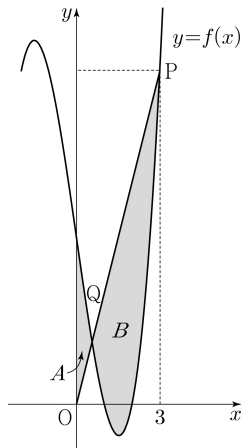
- ① 120 ② 125 ③ 130 ④ 135 ⑤ 140

13. 최고차항의 계수가 1인 삼차함수 $f(x)$ 가

$$f(1) = f(2) = 0, \quad f'(0) = -7$$

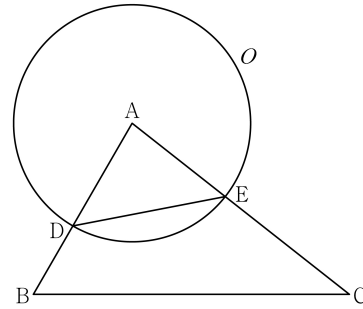
을 만족시킨다. 원점 O 와 점 $P(3, f(3))$ 에 대하여 선분 OP 가 곡선 $y=f(x)$ 와 만나는 점 중 P 가 아닌 점을 Q 라 하자. 곡선 $y=f(x)$ 와 y 축 및 선분 OQ 로 둘러싸인 부분의 넓이를 A , 곡선 $y=f(x)$ 와 선분 PQ 로 둘러싸인 부분의 넓이를 B 라 할 때, $B - A$ 의 값은? [4점]

- ① $\frac{37}{4}$ ② $\frac{39}{4}$ ③ $\frac{41}{4}$ ④ $\frac{43}{4}$ ⑤ $\frac{45}{4}$



14. 그림과 같이 삼각형 ABC 에서 선분 AB 위에 $\overline{AD} : \overline{DB} = 3 : 2$ 인 점 D 를 잡고, 점 A 를 중심으로 하고 점 D 를 지나는 원을 O , 원 O 와 선분 AC 가 만나는 점을 E 라 하자.

$\sin A : \sin C = 8 : 5$ 이고, 삼각형 ADE 와 삼각형 ABC 의 넓이의 비가 $9 : 35$ 이다. 삼각형 ABC 의 외접원의 반지름의 길이가 7일 때, 원 O 위의 점 P 에 대하여 삼각형 PBC 의 넓이의 최댓값은? (단, $\overline{AB} < \overline{AC}$) [4점]



- ① $18 + 15\sqrt{3}$ ② $24 + 20\sqrt{3}$ ③ $30 + 25\sqrt{3}$
 ④ $36 + 30\sqrt{3}$ ⑤ $42 + 35\sqrt{3}$

15. 상수 a ($a \neq 3\sqrt{5}$)와 최고차항의 계수가 음수인 이차함수 $f(x)$ 에 대하여 함수

$$g(x) = \begin{cases} x^3 + ax^2 + 15x + 7 & (x \leq 0) \\ f(x) & (x > 0) \end{cases}$$

이 다음 조건을 만족시킨다.

- (가) 함수 $g(x)$ 는 실수 전체의 집합에서 미분가능하다.
 (나) x 에 대한 방정식 $g'(x) \times g'(x-4) = 0$ 의 서로 다른 실근의 개수는 4이다.

$g(-2) + g(2)$ 의 값은? [4점]

- ① 30 ② 32 ③ 34 ④ 36 ⑤ 38

단답형

16. 방정식

$$\log_2(x-3) = \log_4(3x-5)$$

를 만족시키는 실수 x 의 값을 구하시오. [3점]

17. 다항함수 $f(x)$ 에 대하여 $f'(x) = 9x^2 + 4x$ 이고 $f(1) = 6$ 일 때, $f(2)$ 의 값을 구하시오. [3점]

18. 수열 $\{a_n\}$ 이 모든 자연수 n 에 대하여

$$a_n + a_{n+4} = 12$$

를 만족시킬 때, $\sum_{n=1}^{16} a_n$ 의 값을 구하시오. [3점]

19. 양수 a 에 대하여 함수 $f(x)$ 를

$$f(x) = 2x^3 - 3ax^2 - 12a^2x$$

라 하자. 함수 $f(x)$ 의 극댓값이 $\frac{7}{27}$ 일 때, $f(3)$ 의 값을 구하시오. [3점]

20. 곡선 $y = \left(\frac{1}{5}\right)^{x-3}$ 과 직선 $y=x$ 가 만나는 점의 x 좌표를 k 라 하자. 실수 전체의 집합에서 정의된 함수 $f(x)$ 가 다음 조건을 만족시킨다.

$x > k$ 인 모든 실수 x 에 대하여

$$f(x) = \left(\frac{1}{5}\right)^{x-3} \text{ 이고 } f(f(x)) = 3x \text{ 이다.}$$

$f\left(\frac{1}{k^3 \times 5^{3k}}\right)$ 의 값을 구하시오. [4점]

21. 함수 $f(x) = x^3 + ax^2 + bx + 4$ 가 다음 조건을 만족시키도록 하는 두 정수 a, b 에 대하여 $f(1)$ 의 최댓값을 구하시오. [4점]

모든 실수 α 에 대하여 $\lim_{x \rightarrow \alpha} \frac{f(2x+1)}{f(x)}$ 의 값이 존재한다.

22. 모든 항이 정수이고 다음 조건을 만족시키는 모든 수열 $\{a_n\}$ 에 대하여 $|a_1|$ 의 값의 합을 구하시오. [4점]

(가) 모든 자연수 n 에 대하여

$$a_{n+1} = \begin{cases} a_n - 3 & (|a_n| \text{이 홀수인 경우}) \\ \frac{1}{2}a_n & (a_n = 0 \text{ 또는 } |a_n| \text{이 짝수인 경우}) \end{cases}$$

이다.

(나) $|a_m| = |a_{m+2}|$ 인 자연수 m 의 최솟값은 3이다.

* 확인 사항

- 답안지의 해당란에 필요한 내용을 정확히 기입(표기)했는지 확인하시오.
- 이어서, 「선택과목(확률과 통계)」 문제가 제시되오니, 자신이 선택한 과목인지 확인하시오.

제 2 교시

수학 영역(확률과 통계)

짝수형

5지선다형

23. 다항식 $(x^3+2)^5$ 의 전개식에서 x^6 의 계수는? [2점]

- ① 40 ② 50 ③ 60 ④ 70 ⑤ 80

24. 두 사건 A, B 에 대하여

$$P(A|B) = P(A) = \frac{1}{2}, \quad P(A \cap B) = \frac{1}{5}$$

일 때, $P(A \cup B)$ 의 값은? [3점]

- ① $\frac{1}{2}$ ② $\frac{3}{5}$ ③ $\frac{7}{10}$ ④ $\frac{4}{5}$ ⑤ $\frac{9}{10}$

25. 정규분포 $N(m, 2^2)$ 을 따르는 모집단에서 크기가 256인 표본을 임의추출하여 얻은 표본평균을 이용하여 구한 m 에 대한 신뢰도 95%의 신뢰구간이 $a \leq m \leq b$ 이다. $b-a$ 의 값은?
(단, Z 가 표준정규분포를 따르는 확률변수일 때, $P(|Z| \leq 1.96) = 0.95$ 로 계산한다.) [3점]

- ① 0.49 ② 0.52 ③ 0.55 ④ 0.58 ⑤ 0.61


26. 어느 학급의 학생 16명을 대상으로 과목 A와 과목 B에 대한 선호도를 조사하였다. 이 조사에 참여한 학생은 과목 A와 과목 B 중 하나를 선택하였고, 과목 A를 선택한 학생은 9명, 과목 B를 선택한 학생은 7명이다. 이 조사에 참여한 학생 16명 중에서 임의로 3명을 선택할 때, 선택한 3명의 학생 중에서 적어도 한 명이 과목 B를 선택한 학생일 확률은? [3점]

- ① $\frac{3}{4}$ ② $\frac{4}{5}$ ③ $\frac{17}{20}$ ④ $\frac{9}{10}$ ⑤ $\frac{19}{20}$

27. 숫자 1, 3, 5, 7, 9가 각각 하나씩 적혀 있는 5장의 카드가 들어 있는 주머니가 있다. 이 주머니에서 임의로 1장의 카드를 꺼내어 카드에 적혀 있는 수를 확인한 후 다시 넣는 시행을 한다. 이 시행을 3번 반복하여 확인한 세 개의 수의 평균을 \bar{X} 라 하자. $V(a\bar{X}+6)=24$ 일 때, 양수 a 의 값은?

[3점]

- ① 1 ② 2 ③ 3 ④ 4 ⑤ 5



28. 집합 $X = \{1, 2, 3, 4, 5, 6\}$ 에 대하여 다음 조건을 만족시키는 함수 $f: X \rightarrow X$ 의 개수는? [4점]

- (가) $f(1) \times f(6)$ 의 값이 6의 약수이다.
 (나) $2f(1) \leq f(2) \leq f(3) \leq f(4) \leq f(5) \leq 2f(6)$

- ① 166 ② 171 ③ 176 ④ 181 ⑤ 186

단답형

29. 정규분포 $N(m_1, \sigma_1^2)$ 을 따르는 확률변수 X 와 정규분포 $N(m_2, \sigma_2^2)$ 을 따르는 확률변수 Y 가 다음 조건을 만족시킨다.

모든 실수 x 에 대하여
 $P(X \leq x) = P(X \geq 40 - x)$ 이고
 $P(Y \leq x) = P(X \leq x + 10)$ 이다.

$P(15 \leq X \leq 20) + P(15 \leq Y \leq 20)$ 의 값을 오른쪽 표준정규분포표를 이용하여 구한 것이 0.4772일 때, $m_1 + \sigma_2$ 의 값을 구하시오.
 (단, σ_1 과 σ_2 는 양수이다.) [4점]

z	$P(0 \leq Z \leq z)$
0.5	0.1915
1.0	0.3413
1.5	0.4332
2.0	0.4772

30. 탁자 위에 5개의 동전이 일렬로 놓여 있다. 이 5개의 동전 중 1번째 자리와 2번째 자리의 동전은 앞면이 보이도록 놓여 있고, 나머지 자리의 3개의 동전은 뒷면이 보이도록 놓여 있다. 이 5개의 동전과 한 개의 주사위를 사용하여 다음 시행을 한다.

주사위를 한 번 던져 나온 눈의 수가 k 일 때,
 $k \leq 5$ 이면 k 번째 자리의 동전을 한 번 뒤집어 제자리에 놓고,
 $k = 6$ 이면 모든 동전을 한 번씩 뒤집어 제자리에 놓는다.

위의 시행을 3번 반복한 후 이 5개의 동전이 모두 앞면이 보이도록 놓여 있을 확률은 $\frac{q}{p}$ 이다. $p+q$ 의 값을 구하시오.
 (단, p 와 q 는 서로소인 자연수이다.) [4점]



* 확인 사항

- 답안지의 해당란에 필요한 내용을 정확히 기입(표기)했는지 확인하시오.
- 이어서, 「선택과목(미적분)」 문제가 제시되오니, 자신이 선택한 과목인지 확인하시오.

제 2 교시

수학 영역(미적분)

짜수형

5지선다형

23. $\lim_{x \rightarrow 0} \frac{3x^2}{\sin^2 x}$ 의 값은? [2점]

- ① 1 ② 2 ③ 3 ④ 4 ⑤ 5

24. $\int_0^{10} \frac{x+2}{x+1} dx$ 의 값은? [3점]

- ① $10 + \ln 5$ ② $10 + \ln 7$ ③ $10 + 2\ln 3$
 ④ $10 + \ln 11$ ⑤ $10 + \ln 13$

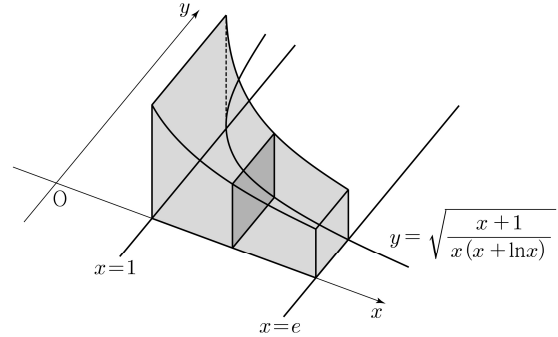
25. 수열 $\{a_n\}$ 에 대하여 $\lim_{n \rightarrow \infty} \frac{na_n}{n^2+3} = 1$ 일 때,

$\lim_{n \rightarrow \infty} (\sqrt{a_n^2+n} - a_n)$ 의 값은? [3점]

- ① $\frac{1}{3}$ ② $\frac{1}{2}$ ③ 1 ④ 2 ⑤ 3

26. 그림과 같이 곡선 $y = \sqrt{\frac{x+1}{x(x+\ln x)}}$ 과 x 축 및 두 직선

$x=1, x=e$ 로 둘러싸인 부분을 밑면으로 하는 입체도형이 있다. 이 입체도형을 x 축에 수직인 평면으로 자른 단면이 모두 정사각형일 때, 이 입체도형의 부피는? [3점]



- ① $\ln(e+1)$ ② $\ln(e+2)$ ③ $\ln(e+3)$
 ④ $\ln(2e+1)$ ⑤ $\ln(2e+2)$

27. 최고차항의 계수가 1인 삼차함수 $f(x)$ 에 대하여 함수 $g(x)$ 를

$$g(x) = f(e^x) + e^x$$

이라 하자. 곡선 $y = g(x)$ 위의 점 $(0, g(0))$ 에서의 접선이 x 축이고 함수 $g(x)$ 가 역함수 $h(x)$ 를 가질 때, $h'(8)$ 의 값은?

[3점]

- ① $\frac{1}{36}$ ② $\frac{1}{18}$ ③ $\frac{1}{12}$ ④ $\frac{1}{9}$ ⑤ $\frac{5}{36}$

28. 실수 전체의 집합에서 미분가능한 함수 $f(x)$ 의 도함수 $f'(x)$ 가

$$f'(x) = -x + e^{1-x^2}$$

이다. 양수 t 에 대하여 곡선 $y = f(x)$ 위의 점 $(t, f(t))$ 에서의 접선과 곡선 $y = f(x)$ 및 y 축으로 둘러싸인 부분의 넓이를 $g(t)$ 라 하자. $g(1) + g'(1)$ 의 값은? [4점]

- ① $\frac{1}{2}e + \frac{1}{2}$ ② $\frac{1}{2}e + \frac{2}{3}$ ③ $\frac{1}{2}e + \frac{5}{6}$
 ④ $\frac{2}{3}e + \frac{1}{2}$ ⑤ $\frac{2}{3}e + \frac{2}{3}$

단답형

29. 등비수열 $\{a_n\}$ 이

$$\sum_{n=1}^{\infty} (|a_n| + a_n) = \frac{40}{3}, \quad \sum_{n=1}^{\infty} (|a_n| - a_n) = \frac{20}{3}$$

을 만족시킨다. 부등식

$$\lim_{n \rightarrow \infty} \sum_{k=1}^{2n} \left((-1)^{\frac{k(k+1)}{2}} \times a_{m+k} \right) > \frac{1}{700}$$

을 만족시키는 모든 자연수 m 의 값의 합을 구하시오. [4점]

30. 두 상수 a ($1 \leq a \leq 2$), b 에 대하여 함수

$f(x) = \sin(ax + b + \sin x)$ 가 다음 조건을 만족시킨다.

(가) $f(0) = 0, f(2\pi) = 2\pi a + b$

(나) $f'(0) = f'(t)$ 인 양수 t 의 최솟값은 4π 이다.

함수 $f(x)$ 가 $x = \alpha$ 에서 극대인 α 의 값 중 열린구간 $(0, 4\pi)$ 에 속하는 모든 값의 집합을 A 라 하자. 집합 A 의 원소의 개수를 n , 집합 A 의 원소 중 가장 작은 값을 α_1 이라 하면,

$n\alpha_1 - ab = \frac{q}{p}\pi$ 이다. $p+q$ 의 값을 구하시오.

(단, p 와 q 는 서로소인 자연수이다.) [4점]

* 확인 사항

- 답안지의 해당란에 필요한 내용을 정확히 기입(표기)했는지 확인하시오.
- 이어서, 「선택과목(기하)」 문제가 제시되오니, 자신이 선택한 과목인지 확인하시오.

제 2 교시

수학 영역(기하)

짜수형

5지선다형

23. 두 벡터 $\vec{a} = (k, 3)$, $\vec{b} = (1, 2)$ 에 대하여 $\vec{a} + 3\vec{b} = (6, 9)$ 일 때, k 의 값은? [2점]

- ① 1 ② 2 ③ 3 ④ 4 ⑤ 5

24. 꼭짓점의 좌표가 $(1, 0)$ 이고, 준선이 $x = -1$ 인 포물선이 점 $(3, a)$ 를 지날 때, 양수 a 의 값은? [3점]

- ① 1 ② 2 ③ 3 ④ 4 ⑤ 5

25. 좌표공간의 두 점 $A(a, b, 6)$, $B(-4, -2, c)$ 에 대하여 선분 AB를 3:2로 내분하는 점이 z 축 위에 있고, 선분 AB를 3:2로 외분하는 점이 xy 평면 위에 있을 때, $a+b+c$ 의 값은? [3점]

- ① 11 ② 12 ③ 13 ④ 14 ⑤ 15

26. 자연수 $n(n \geq 2)$ 에 대하여 직선 $x = \frac{1}{n}$ 이 두 타원과

$$C_1 : \frac{x^2}{2} + y^2 = 1, \quad C_2 : 2x^2 + \frac{y^2}{2} = 1$$

과 만나는 제1사분면 위의 점을 각각 P, Q라 하자.

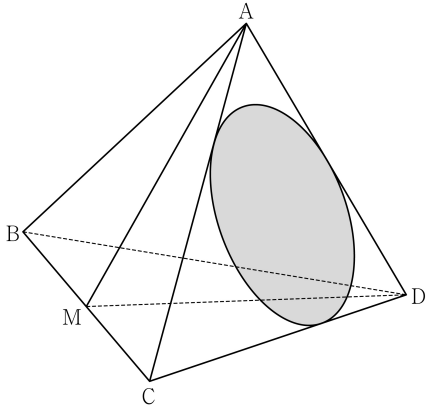
타원 C_1 위의 점 P에서의 접선의 x 절편을 α ,

타원 C_2 위의 점 Q에서의 접선의 x 절편을 β 라 할 때,

$6 \leq \alpha - \beta \leq 15$ 가 되도록 하는 모든 n 의 개수는? [3점]

- ① 7 ② 9 ③ 11 ④ 13 ⑤ 15

27. 그림과 같이 $\overline{AB} = 6$, $\overline{BC} = 4\sqrt{5}$ 인 사면체 ABCD에 대하여 선분 BC의 중점을 M이라 하자. 삼각형 AMD가 정삼각형이고 직선 BC는 평면 AMD와 수직일 때, 삼각형 ACD에 내접하는 원의 평면 BCD 위로의 정사영의 넓이는? [3점]



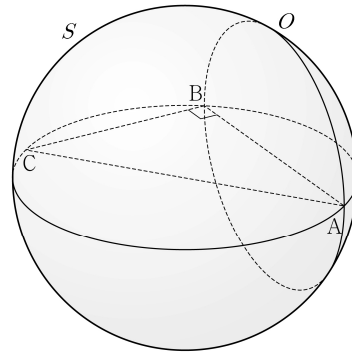
- ① $\frac{\sqrt{10}}{4}\pi$ ② $\frac{\sqrt{10}}{6}\pi$ ③ $\frac{\sqrt{10}}{8}\pi$
 ④ $\frac{\sqrt{10}}{10}\pi$ ⑤ $\frac{\sqrt{10}}{12}\pi$

28. 좌표공간에 $\overline{AB} = 8$, $\overline{BC} = 6$, $\angle ABC = \frac{\pi}{2}$ 인 직각삼각형

ABC와 선분 AC를 지름으로 하는 구 S가 있다. 직선 AB를 포함하고 평면 ABC에 수직인 평면이 구 S와 만나서 생기는 원을 O라 하자. 원 O 위의 점 중에서 직선 AC까지의 거리가 4인 서로 다른 두 점을 P, Q라 할 때, 선분 PQ의 길이는?

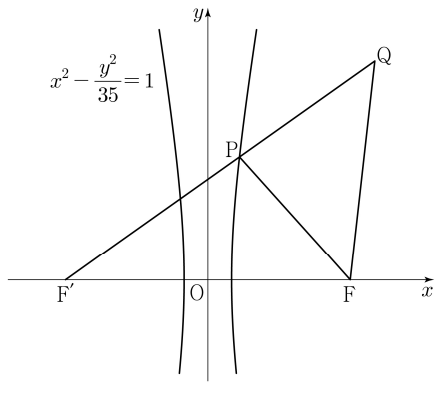
[4점]

- ① $\sqrt{43}$ ② $\sqrt{47}$ ③ $\sqrt{51}$ ④ $\sqrt{55}$ ⑤ $\sqrt{59}$



단답형

29. 두 초점이 $F(c, 0), F'(-c, 0)$ ($c > 0$)인 쌍곡선 $x^2 - \frac{y^2}{35} = 1$ 이 있다. 이 쌍곡선 위에 있는 제1사분면 위의 점 P 에 대하여 직선 PF' 위에 $\overline{PQ} = \overline{PF}$ 인 점 Q 를 잡자. 삼각형 $QF'F$ 와 삼각형 $FF'P$ 가 서로 닮음일 때, 삼각형 PFQ 의 넓이는 $\frac{q}{p}\sqrt{5}$ 이다. $p+q$ 의 값을 구하시오. (단, $\overline{PF'} < \overline{QF'}$ 이고, p 와 q 는 서로소인 자연수이다.) [4점]



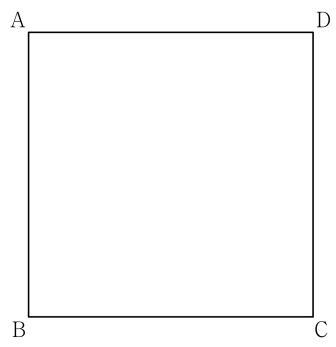
30. 좌표평면에 한 변의 길이가 4인 정사각형 ABCD가 있다.

$$|\overrightarrow{XB} + \overrightarrow{XC}| = |\overrightarrow{XB} - \overrightarrow{XC}|$$

를 만족시키는 점 X 가 나타내는 도형을 S 라 하자. 도형 S 위의 점 P 에 대하여

$$4\overrightarrow{PQ} = \overrightarrow{PB} + 2\overrightarrow{PD}$$

를 만족시키는 점을 Q 라 할 때, $\overrightarrow{AC} \cdot \overrightarrow{AQ}$ 의 최댓값과 최솟값을 각각 M, m 이라 하자. $M \times m$ 의 값을 구하시오. [4점]



* 확인 사항
 ○ 답안지의 해당란에 필요한 내용을 정확히 기입(표기)했는지 확인하시오.