

제 4 교시

사회탐구 영역 (사회·문화)

성명  수험 번호

1. 밑줄 친 ㉠~㉣과 같은 현상의 일반적인 특징에 대한 설명으로 옳은 것은?

신경학자 에릭 레네버그는 소수의 아이들이 말을 배우는데 어려움을 겪고, ㉠때로는 그러한 특성이 가계에 유전된다는 사실을 발견했다. 물론 청각 장애나 지적 장애 때문에 ㉡언어적 의사소통에 어려움을 겪는 경우는 아니었다. 이들은 ㉢감각 기관이나 지적 능력도 관찰한 결과 정상이지만 웬지 언어생활을 하는 데 어려움을 겪었고, 레네버그는 이런 현상을 ㉣'단순 언어 장애'라고 지칭했다.

- ① ㉠, ㉣과 같은 현상은 인과 관계가 분명하게 나타난다.
- ② ㉡, ㉣과 같은 현상은 특수성보다 보편성이 강하다.
- ③ ㉡, ㉣과 같은 현상에는 확률성의 원리가 작용한다.
- ④ ㉢과 같은 현상은 ㉠과 같은 현상과 달리 존재법칙을 따른다.
- ⑤ ㉣과 같은 현상은 ㉠과 같은 현상과 달리 경험적 자료로 연구할 수 있다.

2. 다음 글에 나타난 교육을 바라보는 관점에 부합하는 진술로 가장 적절한 것은?

한 실험에서 학생들을 무작위로 명단을 뽑아 교사에게 '지적 능력이나 학업 성취의 향상 가능성이 높은 학생들'로 믿게 하자 8개월이 지난 뒤 명단에 속했던 학생들은 다른 학생들보다 지능 지수와 학교 성적이 크게 향상되었다. 즉 학생에 대한 교사의 긍정적인 기대와 칭찬이 학업 성취에 긍정적인 영향을 미친다.

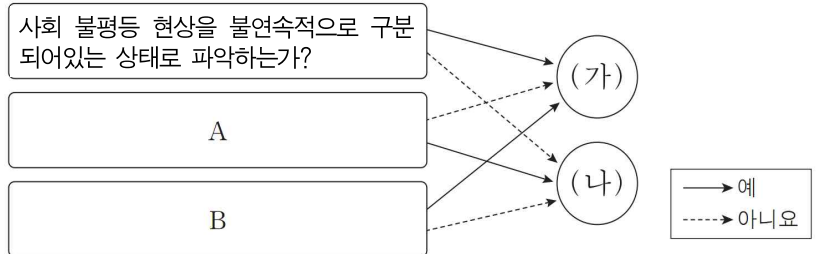
- ① 학교는 사회적 희소가치의 배분 및 고착화에 정당성을 부여하는 기관이다.
- ② 학교는 교사와 학생 간의 끊임없는 상호 작용을 통해 역할을 재구성해가는 공간이다.
- ③ 학교는 인재가 적재적소에 효율적으로 배치될 수 있도록 하는 사회화 기관이다.
- ④ 학교에서 교사와 학생 간의 교육 활동은 교사가 학생에게 부여하는 보상과 처벌 행동으로 환원된다.
- ⑤ 학교에서 특정 계층에게 유리한 교육이 이루어지는 문제는 접근 기회의 평등보다 교육 결과의 평등으로 해결된다.

3. 표는 A~C의 특징을 비교한 것이다. 이에 대한 설명으로 옳은 것은? (단, A~C는 각각 농업 사회, 산업 사회, 정보 사회 중 하나이다.) [3점]

분류 기준	(가)	(나)	(다)
비교 결과	A>B>C	C>A>B	C>B>A

- ① A가 농업 사회이면 (나)는 '기술 발전 속도'가 적절하다.
- ② C가 정보 사회이면 (다)는 '면대면 소통의 비중'이 적절하다.
- ③ (가)가 '구성원 간 익명성'이면 (나)는 '관료제 조직의 비중'이 적절하다.
- ④ (나)가 '사회의 다원화 정도'이면 (다)는 '정보 확산의 시공간적 제약'이 적절하다.
- ⑤ (다)가 '소품종 대량 생산의 비중'이면 (가)는 '가정과 일터의 결합 정도'가 적절하다.

4. 그림은 사회 불평등 현상을 설명하는 서로 다른 이론적 관점 (가), (나)를 나타낸 것이다. 이에 대한 옳은 설명을 <보기>에서 고른 것은?

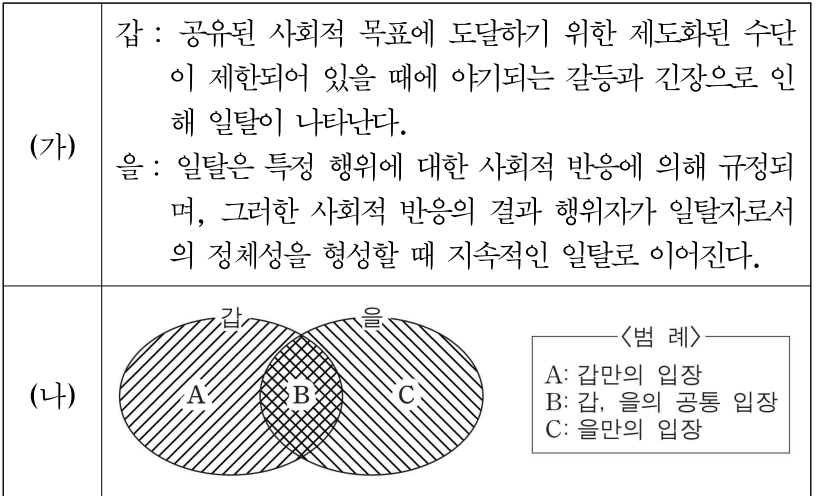


<보 기>

- ㄱ. A에는 '현대 사회의 지위 불일치 현상을 설명하기에 용이한가?'가 적절하다.
- ㄴ. B에는 '사회 불평등 현상에 경제적 요인이 작용하는가?'가 적절하다.
- ㄷ. (가)의 관점은 경제적 지위에 따른 구성원의 집단 귀속 의식을 강조한다.
- ㄹ. (나)의 관점은 사회 불평등 현상을 사회적 희소가치의 불공정한 배분 결과로 파악한다.

- ① ㄱ, ㄴ    ② ㄱ, ㄷ    ③ ㄱ, ㄹ    ④ ㄴ, ㄹ    ⑤ ㄷ, ㄹ

5. 일탈 행동을 보는 (가)의 갑, 을의 이론적 관점을 (나) 그림으로 표현할 때, A~C에 해당하는 적절한 진술만을 <보기>에서 있는 대로 고른 것은? [3점]



<보 기>

- ㄱ. A : 사회적으로 수용되는 목표에 따른 적절한 수단이 제공될 때 일탈 행동은 해결된다.
- ㄴ. B : 정상적인 사회 집단과의 교류 촉진을 통해 일탈 행동은 해결된다.
- ㄷ. C : 일탈자로서의 부정적인 자의식을 내면화하여 일탈 행동이 반복된다.
- ㄹ. C : 지배집단이 자의적으로 획정한 일탈 기준으로 인해 일탈 행동이 규정된다.

- ① ㄱ, ㄴ    ② ㄱ, ㄷ    ③ ㄴ, ㄷ
- ④ ㄱ, ㄷ, ㄹ    ⑤ ㄴ, ㄷ, ㄹ

6. 밑줄 친 ㉠~㉤에 대한 설명으로 옳은 것은? [3점]

갑은 ㉠“소개팅 전에 상대에 대한 정보가 많을수록 선호도가 높을 것이다.”라는 가설을 검증하기 위해 실험을 진행했다. 실험에 자원한 서울 소재 대학의 재학생 ㉡100명에게 소개팅 상대에 대한 ㉢여러 가지 신체·성격·취미 등의 구체적인 정보를 알려주고 소개팅 전과 소개팅을 마친 후 상대에 대한 ㉣선호도를 0점에서 5점 사이에서 매기도록 설문조사를 진행했다. 조사 결과, 상대에 대한 ㉤정보를 받지 않은 50명은 상대에 대해 소개팅 전후 선호도의 차이가 컸다. 하지만 사전에 ㉠구체적인 여러 정보를 받은 50명은 상대에 대한 소개팅 전후 선호도의 차이가 그보다 현저히 적었다. 갑은 ㉡연구 결과를 토대로 “소개팅 전에 상대에 대한 정보가 많을수록 소개팅 전후의 선호도의 차이가 작다”고 결론지었다.

- ① ㉡은 모집단의 특성을 대표한다.
- ② ㉢, ㉣은 모두 독립 변수에 해당한다.
- ③ ㉤은 실험 집단, ㉠은 통제 집단에 해당한다.
- ④ 연역적 연구 과정을 거친 ㉤을 토대로 ㉠이 채택되었다.
- ⑤ 연구 대상의 주관적 가치를 측정하여 규칙성을 도출하는 연구 방법이 사용되었다.

7. 다음의 글에서 부각되는 문화의 속성에 대한 진술로 옳은 것만을 <보기>에서 있는 대로 고른 것은? [3점]

1215년 영국에서 ‘마그나 카르타’는 본래 왕의 권한을 제한하고 귀족의 관습적인 권리를 재확인한 봉건적 문서였다. 그러나 17세기에 이르러 왕권과 의회의 대립 이후 왕의 전제적 권한을 제한하고 국민의 자유와 권리를 보장하는 역사적 논거로서 재해석되었다. 국민의 자유와 권리를 옹호한 당대 의회의 인식이 보편화된 현재 영국에서는 ‘마그나 카르타’가 국민의 자유를 옹호하는 근대 헌법의 토대이자 영국 현대법의 기초로 여겨지고 있다.

<보 기>

- ㄱ. 사회 구성원의 행동을 이해하고 예측하는 토대이다.
- ㄴ. 원초적인 사회화를 통해 후천적으로 학습되는 것이다.
- ㄷ. 새로운 특성이 추가되거나 기존의 특성이 소멸되기도 한다.
- ㄹ. 부분은 전체의 유기적 맥락 속에서 비로소 의미를 갖는다.

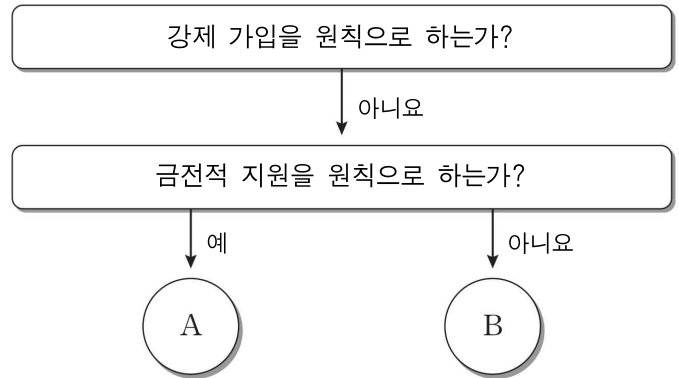
- ① ㄱ, ㄴ                      ② ㄱ, ㄹ                      ③ ㄷ, ㄹ
- ④ ㄱ, ㄷ, ㄹ                ⑤ ㄴ, ㄷ, ㄹ

8. 밑줄 친 ㉠~㉤에 대한 설명으로 옳지 않은 것은?

○ 갑은 ㉠대학에 입학해 심리학자로서 발돋움하길 원한다. 하지만 대학 입학 원서 접수를 앞두고 경제학과에 진학하길 바라는 ㉡어머니의 뜻을 따라야 할지, 원하는 전공을 선택해서 행복한 삶을 누리라는 사촌 언니의 조언을 따라야 할지 ㉢고민에 빠졌다.  
○ ㉣○○신문사 기자 생활에 만족하고 있는 을은 평소 빈곤 문제에 관심이 많아 ㉤▽▽재단이라는 국제 시민 단체에서 활동하고 있다. 그런데 이번 시민 단체 총회에서 ㉠남성 임원 선거를 앞두고 비싼 등록비용을 감수하고 후보 등록을 해야 할지 ㉡고민에 빠졌다.

- ① ㉠은 갑이 예기 사회화를 기대하는 기관이다.
- ② ㉢, ㉣은 모두 성취 지위에 해당한다.
- ③ ㉤은 을의 내집단이면서 이익 사회에 해당한다.
- ④ ㉡은 ㉠과 같은 공식 조직에 비해 가입과 탈퇴가 자유롭다.
- ⑤ ㉢, ㉣은 모두 역할 갈등에 해당한다.

9. 그림은 우리나라의 사회 보장 제도를 구분한 것이다. A, B에 대한 설명으로 옳은 것은? (단, A, B는 각각 공공 부조, 사회보험, 사회 서비스 중 하나이다.) [3점]



※사회 복지 서비스는 2013년부터 사회 서비스로 변경되어 시행됨.

- ① A는 B와 달리 대상자 결정에서 소득이 고려된다.
- ② A는 B에 비해 대상자의 범위가 넓다.
- ③ B는 A와 달리 소득 재분배 효과가 있다.
- ④ B는 A에 비해 국가의 재원 부담률이 낮다.
- ⑤ A, B 모두 사전 예방의 성격이 강하다.

10. 다음 자료에 대한 옳은 분석만을 <보기>에서 있는 대로 고른 것은? [3점]

표는 갑국과 을국의 최저 생계비(A) 대비 중위 소득(B)의 변화를 나타낸 것이다. 2000년에서 2010년 사이에 갑국과 을국에서 각각 최저 생계비는 지속적으로 증가하였고 절대적 빈곤 가구는 지속적으로 감소하였다. 단, 갑국과 을국 각각 모든 가구의 구성원 수가 동일하며, 2010년에 갑국과 을국 각각의 절대적 빈곤 가구 수는 충분히 크다.

구분	2000년	2005년	2010년
갑국(B/A)	1.9	2.1	1.8
을국(B/A)	2.2	1.8	2.0

\*절대적 빈곤율(%): 전체 가구 중 절대적 빈곤 가구(가구 소득이 최저 생계비 미만인 가구)의 비율  
 \*\*상대적 빈곤율(%): 전체 가구 중 상대적 빈곤 가구(가구 소득이 중위 소득의 50% 미만인 가구)의 비율  
 \*\*\*중위 소득: 전체 가구를 소득 순으로 일렬로 배열했을 때 한가운데 위치한 가구의 소득

<보 기>

- ㄱ. 2000년 대비 2005년에 갑국에서 절대적 빈곤 가구 수의 감소율이 상대적 빈곤 가구 수의 감소율보다 크다.
- ㄴ. 2005년 대비 2010년에 을국에서 최저 생계비의 증가율이 중위 소득의 증가율보다 작다.
- ㄷ. 2005년 대비 2010년에 갑국에서 가구 소득이 최저 생계비 이상이면 중위 소득의 50% 미만인 가구 수는 감소했다.
- ㄹ. 2010년에 갑국과 을국에서 절대적 빈곤 가구는 모두 상대적 빈곤 가구에 해당한다.

- ① ㄱ, ㄴ                      ② ㄴ, ㄷ                      ③ ㄷ, ㄹ
- ④ ㄱ, ㄴ, ㄷ                ⑤ ㄴ, ㄷ, ㄹ

11. (가), (나)는 사회·문화 현상의 탐구 태도이다. 이에 대한 옳은 설명을 <보기>에서 고른 것은?

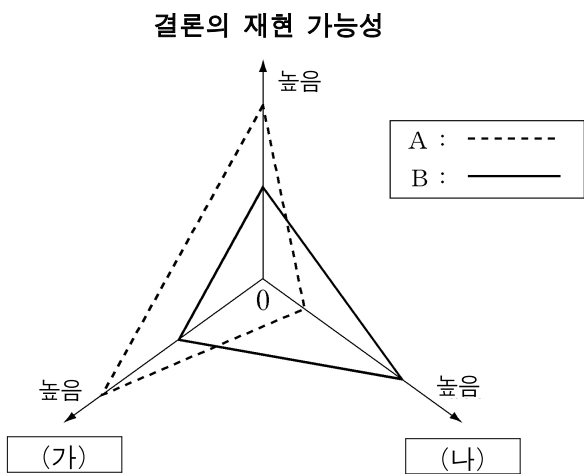
(가) 연구자는 자신이 연구 절차나 방법, 연구 윤리를 지키며 탐구하고 있는지 점검하면서 탐구해야 한다. 그렇지 않으면 자칫 연구 결과는 진리가 아닌 오류가 되기 때문이다.  
(나) 다른 연구자의 주장이나 다른 연구의 결론을 무조건 수용하는 것이 아니라 경험적인 근거를 토대로 검증하기 전에는 하나의 가설로만 받아들여야 한다.

<보 기>

- ㄱ. (가)는 (나)와 달리 사회·문화 현상이 발생한 맥락이나 배경을 중시한다.
- ㄴ. (나)는 (가)에 비해 타인의 비판을 편견 없이 받아들이는 것을 중시한다.
- ㄷ. (가)는 (나)에 비해 사회·문화 현상의 이면에 초점을 두어 파악하는 것을 중시한다.
- ㄹ. (나)는 (가)와 달리 연구에 주관적 가치의 개입을 방지할 것을 강조한다.

- ① ㄱ, ㄴ    ② ㄱ, ㄷ    ③ ㄴ, ㄷ    ④ ㄴ, ㄹ    ⑤ ㄷ, ㄹ

12. 그림은 자료 수집 방법의 일반적인 특징을 비교한 것이다. 이에 대한 설명으로 옳은 것은? (단, A와 B는 각각 질문지법, 면접법 중 하나이다.)



- ① A는 방법론적 이원론에 기초하고 있다.
- ② B는 행위 주체인 연구 대상자의 주관적 의도가 배제된다는 비판을 받는다.
- ③ A는 B와 달리 주로 귀납적 과정을 통해 결론을 도출한다.
- ④ B는 A와 달리 변수와 변수 간의 관계 파악을 주목적으로 한다.
- ⑤ (가)에는 '경제성', (나)에는 '자료의 실제성'이 적절하다.

13. 다음에 나타난 개인과 사회의 관계를 보는 관점에 대한 글이다. A의 관점에 대한 적절한 진술을 <보기>에서 고른 것은?

한 시대에 완전히 이치에 맞고 훌륭하기만 했던 이론이 다른 시대에서는 말도 안 되고 웃기기만 한 이유는 개개인의 인식을 초월한 사회 기류의 기저에 놓인 무의식적 체계가 변화한 까닭이다. 그렇기에 개인의 의식의 총합이 사회 전체의 의식이라는 점과 특정 시대에 지배적인 집단 무의식적 체계와 기저가 존재하지 않는다는 점을 전제한 **A** 라는 주장은 동의하기 어렵다.

<보 기>

- ㄱ. 사회적 사실이 개인적 행위로 환원될 수 있다.
- ㄴ. 사회 규범은 개인들이 옳다고 믿기에 존재한다.
- ㄷ. 사회는 개인의 외부에서 독자적으로 작동한다.
- ㄹ. 사회의 지배적 이념이 개인의 인식까지 구속한다.

- ① ㄱ, ㄴ    ② ㄱ, ㄷ    ③ ㄴ, ㄷ    ④ ㄴ, ㄹ    ⑤ ㄷ, ㄹ

14. 다음 대화에서 사회 변동의 방향을 바라보는 갑, 을의 관점에 대한 설명으로 옳은 것은?



- ① 갑의 관점은 사회 변동의 유형이 사회마다 다르다고 본다.
- ② 을의 관점은 미래의 변동을 예측하여 대응하는 데 곤란하다.
- ③ 갑의 관점과 달리 을의 관점은 사회 변동을 긍정적으로 본다.
- ④ 을의 관점과 달리 갑의 관점은 특정 국가의 지속적인 저발전 상태를 설명하는 데 적합하다.
- ⑤ 갑, 을의 관점은 모두 사회 변동이 항상 진보를 의미하지는 않는다는 점을 간과한다는 비판을 받는다.

15. 표는 문화 이해의 태도 A~C를 구분한 것이다. 이에 대한 옳은 설명을 <보기>에서 고른 것은? (단, A~C는 각각 문화 상대주의, 문화 사대주의, 자문화 중심주의 중 하나이다.) [3점]

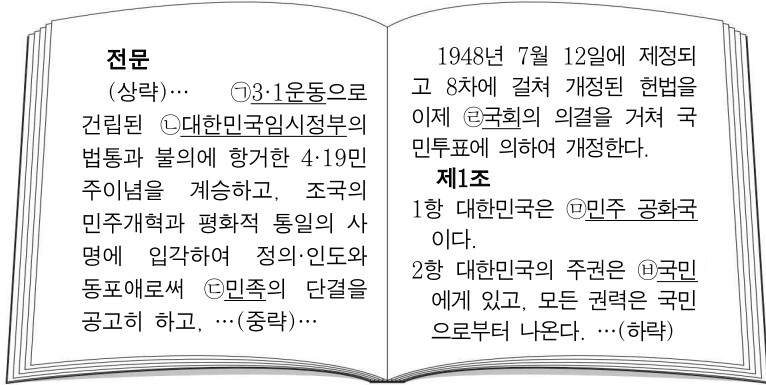
질문	태도		
	A	B	C
문화에 대한 우열 비교가 가능한가?	예	아니요	예
(가)	예	아니요	아니요
(나)	아니요	아니요	예

<보 기>

- ㄱ. B는 A, C와 달리 문화를 평가하는 절대적 기준이 존재하지 않는다고 본다.
- ㄴ. B는 A, C와 달리 인류 보편적 가치를 경시할 가능성이 있다는 비판을 받는다.
- ㄷ. A가 자문화 중심주의이면 (가)에는 '자문화 정체성 상실의 가능성이 높은가?'가 적절하다.
- ㄹ. C가 문화 사대주의이면 (나)에는 '자기 문화가 타문화보다 열등하다고 보는가?'가 적절하다.

- ① ㄱ, ㄴ    ② ㄱ, ㄹ    ③ ㄴ, ㄷ    ④ ㄴ, ㄹ    ⑤ ㄷ, ㄹ

16. 밑줄 친 ㉠~㉣에 대한 설명으로 옳은 것은? [3점]



- ① ㉠은 구성원들의 선택 의지에 따라 형성된 2차 집단이다.
- ② ㉡은 비공식적 사회화 기관이자 비공식 조직이다.
- ③ ㉢은 결합 자체를 목적으로 하는 자발적 결사체이다.
- ④ ㉣, ㉤은 모두 이익사회이자 2차적 사회화 기관이다.
- ⑤ ㉥은 구성원들의 선택과 무관하게 형성된 공동사회이다.

17. 다음의 사회·문화 현상을 보는 갑, 을, 병의 서로 다른 관점에 대한 설명으로 가장 적절한 것은?



- ① 갑의 관점은 가족 문제 해결을 위해 제도적 개입을 중시한다.
- ② 을의 관점은 가족 내의 질서가 특정한 사람의 의사가 반영되어 형성된 것으로 본다.
- ③ 병의 관점은 가족 구성원 간 관계가 항상 안정적인 균형을 유지하는 경향이 있다고 본다.
- ④ 갑의 관점은 병의 관점에 비해 가족 구성원이 자신이 포기하게 될 이익을 고려하여 행동한다는 점을 강조한다.
- ⑤ 병의 관점은 을의 관점과 달리 사회 전체의 필요성을 충족시키기 위해 가족이 형성된다고 본다.

18. (가), (나)에 나타난 문화 변동에 대한 설명으로 가장 적절한 것은? [3점]

(가) 고려 원종 이후 공민왕에 이르는 약 100년 간 고려의 중상류층에서는 고려 양식이 존재하는 가운데 육로로 유입된 몽골 풍속이 유행하였다. 이로 인해 옷깃과 아랫도리를 따로 입는 풍속은 조선 시대 문무 관료의 평상복에까지 영향을 끼쳤다.

(나) 조선 말기에서 대한제국까지의 시기동안 우리나라에서는 서양식 옷을 들여와서 양복을 입고 다니는 사람들을 거리에서 볼 수 있게 되었다. 그러나 여전히 당시 다수의 사람들은 한복을 입고서 생활하고 있었다.

- ① (가)에서는 문화 동화, (나)에서는 문화 공존이 나타난다.
- ② (가)에서는 직접 전파, (나)에서는 자극 전파로 인한 문화 변동이 나타난다.
- ③ (가)와 달리 (나)에서는 내재적 요인에 따른 문화 변동이 나타난다.
- ④ (나)와 달리 (가)에서는 구성원의 외부 문화에 대한 수용적 태도가 나타난다.
- ⑤ (가), (나) 모두 외재적 요인에 의한 문화 접변에 해당한다.

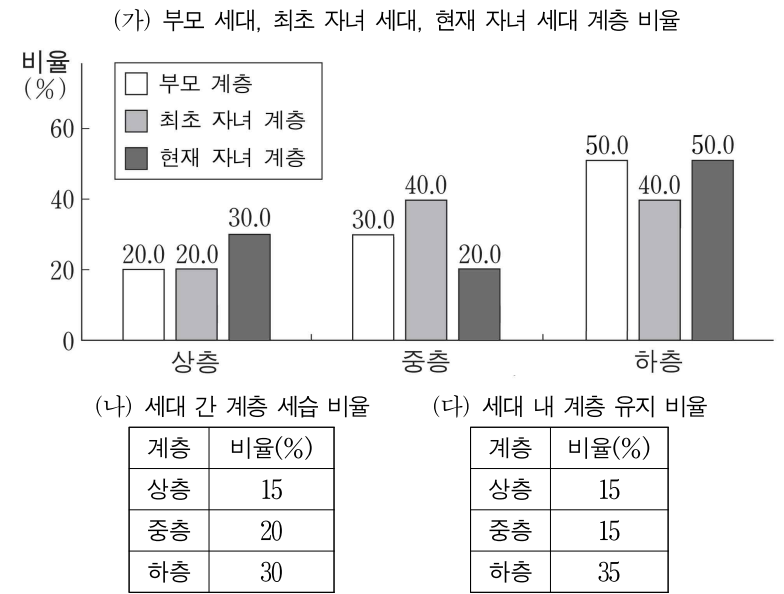
19. 다음 글에 나타난 종교를 바라보는 (가), (나)의 관점에 대한 설명으로 옳은 것은?

(가) 종교가 오랜 시간에 걸쳐 지속된 이유는 사회적 유대가 창출되고 강화되는 주된 통로이기 때문이다. 종교 의식과 종교 의례는 출생, 결혼, 죽음과 같은 생애 과정의 중요한 사건 속에서 집단 연대와 사회적 규범의식을 강화한다.

(나) 산업화 이후 대중의 종교 제의 참석률은 꾸준히 감소하는 경향을 보인다. 이는 대중이 신앙심이나 종교적 몰입이 낮아져서가 아니라 종교 제의에서보다 유익한 사회적 관계를 맺을 수 있는 다른 대체제가 늘어난 환경에서 비롯된다.

- ① (가)의 관점은 종교가 부와 권력의 불평등을 정당화하는 이념적 요소를 가지고 있다고 본다.
- ② (나)의 관점은 개인이나 집단 간의 종교적 행위가 호혜성의 원리에 근거한다는 점을 간과한다.
- ③ (가)의 관점과 달리 (나)의 관점은 종교 활동을 통한 개인의 삶에 대한 의미부여 과정을 중시한다.
- ④ (나)의 관점과 달리 (가)의 관점은 종교가 구성원의 동질성을 강화하여 사회를 존속시킨다고 본다.
- ⑤ (가), (나)의 관점 모두 종교 간 차이로 인한 국가 간 갈등적 상호작용에 초점을 둔다.

20. (가), (나), (다)는 갑국의 세대 간 계층 이동과 세대 내 계층 이동을 나타낸 것이다. 이에 대한 옳은 분석만을 <보기>에서 있는 대로 고른 것은? (단, 세대 간 이동은 부모 세대에서 최초 자녀 세대로의 이동만을 의미한다.) [3점]



<보 기>

ㄱ. 세대 간 상승 이동은 세대 간 하강 이동보다 많다.  
 ㄴ. 부모 계층 대비 최초 자녀 계층과 부모 계층의 일치 비율은 상층에서 가장 낮고 하층에서 가장 높다.  
 ㄷ. 최초 자녀 세대의 계층 구조보다 현재 자녀 세대의 계층 구조에서 사회 통합의 필요성이 더 크다.  
 ㄹ. 현재 자녀 세대 중 중층에서 하층으로 세대 내 하강 이동을 경험한 사람은 하층에서 중층으로 세대 내 상승 이동을 경험한 사람의 2배 이상이다.

- ① ㄱ, ㄴ                      ② ㄱ, ㄷ                      ③ ㄴ, ㄹ
- ④ ㄱ, ㄷ, ㄹ                ⑤ ㄴ, ㄷ, ㄹ

\* 확인 사항  
 ○ 답안지의 해당란에 필요한 내용을 정확히 기입(표기)했는지 확인 하시오.